

PRZYRODA Lekcja 55

Temat: Poznajemy formy terenu

Jeśli masz możliwość obejrzyj lekcję - Klasa 4 - Przyroda - krajobraz: rzeźba terenu


https://www.youtube.com/watch?v=yifZ_bMUfAw

Zapoznaj się z treścią tematu w podręczniku „Ukształtowanie terenu” na str. 141 – 143.

Wykonaj **model wzniesienia i model doliny** zgodnie z instrukcją w podręczniku na str. 143.

Wykonaj zadania umieszczone na karcie pracy. Jeśli karty pracy nie możesz wydrukować, zadania wykonaj w zeszyte do przyrody. Wykonane zadania sfotografuj i odeślij do sprawdzenia.

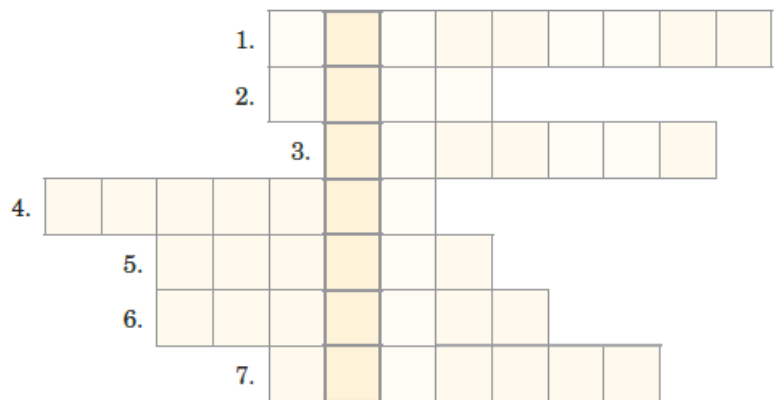
1. Który rysunek przedstawia **wzniesienie**, który – **zagłębienie**, a który – **równinę**? Wpisz pod każdym rysunkiem odpowiednią nazwę formy terenu.



A. B. C.


2. Rozwiąż krzyżówkę. Zapisz i wyjaśnij hasło.

1. Wygląd poszczególnych obszarów Ziemi o charakterystycznych cechach.
2. Wypukła forma terenu o wysokości powyżej 300 m.
3. Wzniesienie wyższe niż 50 m, ale niższe niż 300 m.
4. Zagłębienie terenu otoczone niemal ze wszystkich stron wzniesieniami.
5. Podłużne zagłębienie terenu, w którym często płynie rzeka.
6. Podstawa wzniesienia.
7. Wzniesienie o wysokości do 50 m.



Hasło:

3. Określ, który rysunek przedstawia dolinę, a który – kotlinę. Uzasadnij swoją decyzję.



Rysunek **A** przedstawia,
bo jest to

.....

.....

Rysunek **B** przedstawia,
bo jest to

.....

.....