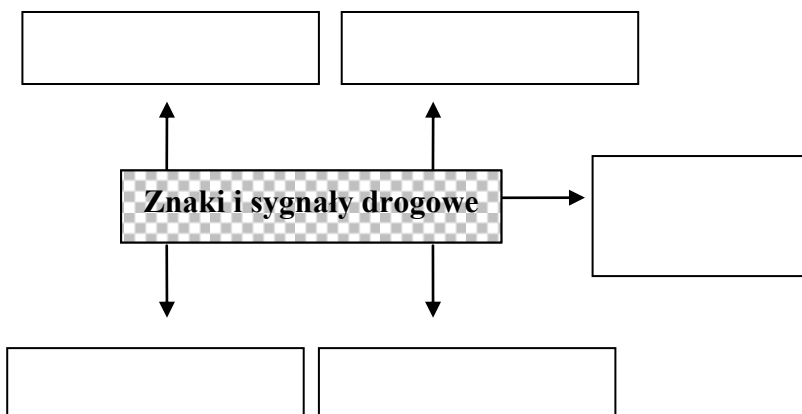


## Znaki i sygnały na drogach

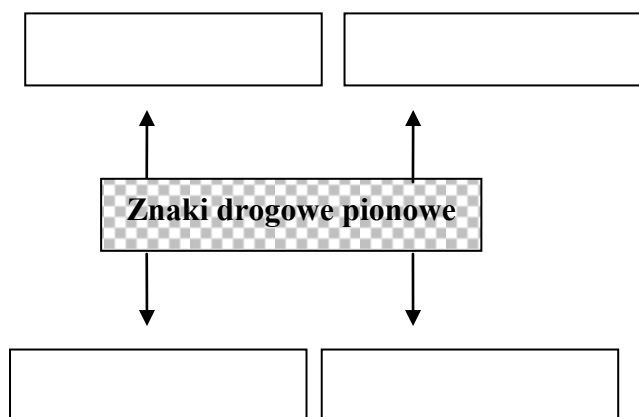
### Ćwiczenie 1

W puste miejsca wpisz nazwy znaków i sygnałów występujących na drogach.



### Ćwiczenie 2

Jakie znasz grupy (rodzaje) znaków drogowych pionowych?



### Ćwiczenie 3

Uzupełnij tekst.

Znaki ostrzegawcze mają kształt.....Obwódka znaku jest ....., a tło....., na którym znajduje się symbol koloru..... Znaki te ..... o miejscach na drodze, w których występuje lub może wystąpić niebezpieczeństwo oraz zobowiązują do zachowania ..... Pod tymi znakami może być umieszczona żółta ..... z czarnym..... uzupełniającym treść znaku.

### Ćwiczenie 4

Pokoloruj i napisz, co oznaczają znaki drogowy ostrzegające o zbliżaniu się do skrzyżowania.

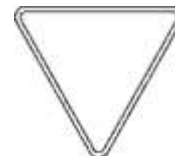
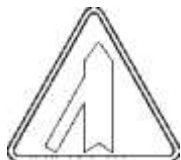


.....  
.....

.....  
.....

.....  
.....

.....  
.....



.....  
.....

.....  
.....

.....  
.....

.....  
.....

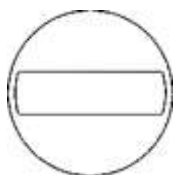
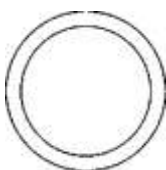
### Ćwiczenie 5

Uzupełnij tekst.

Znaki zakazu są..... Wyjątkowo znak..... ma kształt ośmiokąta. Zazwyczaj są koloru..... z czarnymi symbolami i ..... obwódką. Znaki te wyrażają zakaz wykonywania pewnych ..... Na drodze. Ich treść może być uzupełniona białą ..... z napisem, umieszczoną pod znakiem.

### Ćwiczenie 6

Pokoloruj oraz napisz, co oznaczają poniższe znaki zakazu.



.....  
.....

.....  
.....

.....  
.....

.....  
.....



.....  
.....

.....  
.....

.....  
.....

.....  
.....

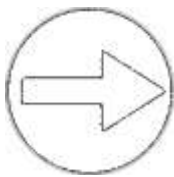
### Ćwiczenie 7

Uzupełnij tekst.

Znaki nakazu są ..... Mają ..... tło z białym..... Znaki te ..... kierującemu odpowiednie zachowanie na jezdni.

### Ćwiczenie 8

Pokoloruj oraz napisz, co oznaczają poniższe znaki nakazu.



.....  
.....

.....  
.....

.....  
.....

.....  
.....

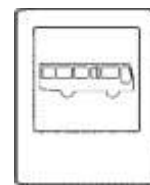

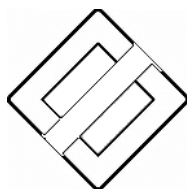

### Ćwiczenie 9

Uzupełnij tekst.

Znaki informacyjne są w kształcie ..... lub ..... Podają wiele ważnych ..... dla kierujących pojazdem.

### Ćwiczenie 10

Pokoloruj i określ znaczenie poniższych znaków informacyjnych.



.....  
.....

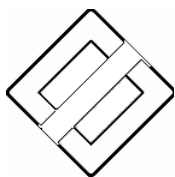

.....  
.....

.....  
.....

.....  
.....

### Ćwiczenie 11

Wyjaśnij dlaczego znaki umieszczone poniżej mają takie szczególne kształty.



.....  
.....  
.....  
.....  
.....  
.....  
.....  
.....  
.....